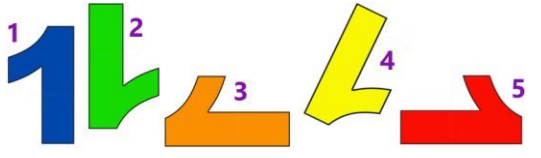






II Международный турнир «Математические ступеньки» для учащихся 1 класса Задания

Ответ должен быть представлен строго в виде **ОДНОГО СЛОВА** или **ОДНОГО ЧИСЛА** без кавычек, точек, орфографических ошибок в именительном падеже и единственном числе. Неверно записанные ответы не учитываются.

<p>1. Найди на рисунке лишнюю единицу. Запиши номер выбранного варианта в ответе.</p>	
<p>2. Догадайся, сколько нужно орешков, чтобы раздать трём белочкам по два орешка? Запиши это число в ответе.</p>	
<p>3. Сколько дней в неделе? Запиши это число в ответе.</p>	
<p>4. Сосчитай, сколько птиц летит влево. Запиши полученное число в ответе.</p>	
<p>5. В цирке на арене выступали 2 клоуна, 2 медведя, 2 собачки, 2 льва, 2 лошадки, 2 кота и 2 дрессировщицы. Сколько животных было на арене? Запиши это число в ответе.</p>	
<p>6. Раскрась кубики, если известно, что красный выше зелёного, а синий ниже красного. Какого цвета кубик получился кубик с номером 2? Запиши номер выбранного варианта в ответе.</p> <p style="text-align: center;">1) красный 2) зелёный 3) синий</p>	<div style="display: flex; flex-direction: column; align-items: center;"> <div style="border: 1px solid black; border-radius: 10px; width: 40px; height: 40px; display: flex; align-items: center; justify-content: center; margin-bottom: 5px;">1</div> <div style="border: 1px solid black; border-radius: 10px; width: 40px; height: 40px; display: flex; align-items: center; justify-content: center; margin-bottom: 5px;">2</div> <div style="border: 1px solid black; border-radius: 10px; width: 40px; height: 40px; display: flex; align-items: center; justify-content: center;">3</div> </div>

7. Догадайся, какое число должно стоять в пустом квадратике?

Запиши это число в ответе.



8. Митя и Витя поймали 10 карасей.

Кот Васька утащил у них 6 карасей.

Сколько карасей осталось у мальчиков?

Запиши полученное число в ответе.



9. У Наташи было 4 шарика жёлтого и зелёного цвета. Жёлтых шариков было больше, чем зелёных.

Сколько шариков каждого цвета было у Наташи?

Запиши номер выбранного варианта в ответе.


- 1) 4 жёлтых
- 2) 3 зелёных, 1 жёлтый
- 3) 4 зелёных
- 4) 3 жёлтых, 1 зелёный



10. У Тани и Вани вместе 12 карандашей. У Тани на 2 карандаша больше, чем у Вани.

Сколько карандашей у Вани?

Запиши это число в ответе.



11. Маша гуляла в парке и собрала для гербария 8 дубовых и 5 берёзовых листочков.

По дороге домой она потеряла два дубовых листочка.

Сколько листьев Маша принесла домой?

Запиши это число в ответе.

12. У Миши, Маши и Саши есть домашние питомцы: хомячок, собака и кот.

У Миши не хомячок и не кот. У Машиного питомца 4 лапы и хвост. Кто живёт у Саши?

Запиши номер выбранного варианта в ответе.

- 1) хомячок
- 2) кот
- 3) собака

